

# 2017年度 入学試験問題

# 社 会

(1科目 100点 45分)

2017年2月14日(火) 4時限目実施

1. 試験開始の合図があるまで、この問題冊子の中を見てはいけません。
2. この注意事項は、よく読んでください。
3. 試験中に問題冊子の印刷不鮮明、ページの落丁・乱丁及び解答用紙の汚れ等に気付いた場合は、手を挙げて監督者に知らせてください。
4. 次のことには十分注意してください。
  - ① 解答用紙には、受験番号を記入することを忘れないこと。
  - ② 答えはすべて解答用紙に記入すること。
  - ③ 不正行為はしないこと。

解答については、間違いのないように十分注意し、記入してください。

東 奥 義 塾 高 等 学 校

# 1

次の文章を読み、それぞれの問いに答えなさい。

アジアの地形は、中央に 8000m を超えるヒマラヤ山脈がそびえ、「世界の屋根」ともいわれるチベット高原が広がる。それらの山地から①複数の大河が流れ出て中下流には平野が開けている。大陸の西部にはアラビア半島や中央アジアに砂漠が広がっている。大陸の東側には日本列島が、東南側には多くの島々が連なっている。

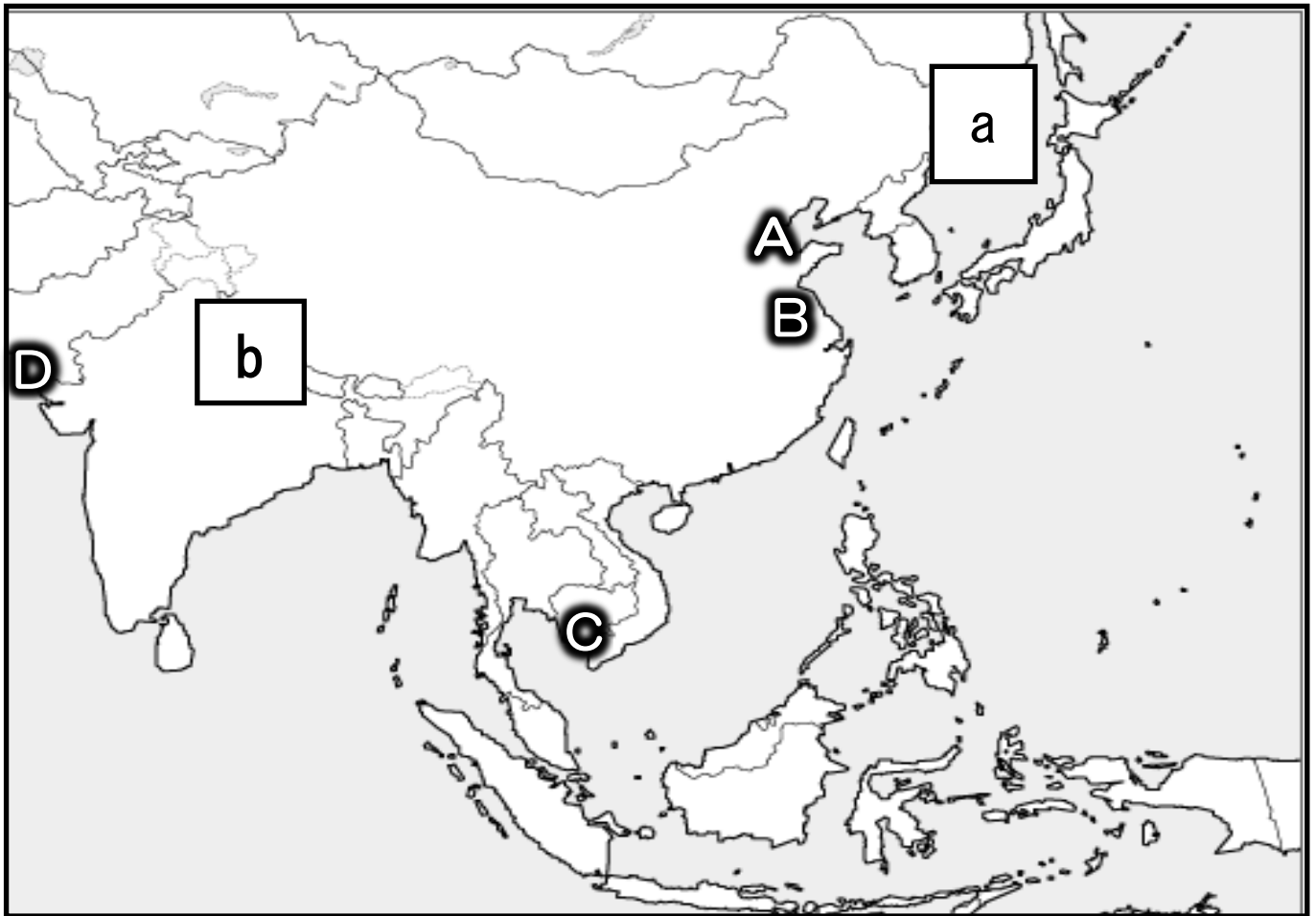
気候は、大陸北部のシベリアには寒帯気候や冷帯気候が広がり、内陸にはステップ気候や砂漠気候が見られる。中央高地では高山気候となっている。海岸に近い東部では、②モンスーンにより四季が明瞭である。

第 2 次世界大戦後に独立を取り戻した多くのアジアの国々では、③農業の近代化や経済の自立が課題であった。アジアには石油や天然ガス、スズなど鉱産資源が豊富な国も多くある。しかし、石油などの資源は輸出に向けられ、自国の工業はなかなか発展しなかった。

1970 年代に入ると、南アジアや東南アジアでは、<sup>かんがい</sup>灌漑設備の整備や新しい品種の導入が始められ、コメの増産が進められた。アジアの 2 ヶ国 2 地域では、工業化に取り組み繊維製品や電子部品などの工場を増やして、製品を欧米や日本に輸出し急速な成長をとげ④アジア N I E Sと呼ばれるようになった。その後、タイやマレーシア・インドネシアなどの⑤A S E A N諸国では、アメリカや日本などの企業による工業化が進められた。インドでは、1990 年代に入り経済の自由化が進められ、⑥欧米の情報専門会社が進出するなど、情報技術産業が成長している。

西アジアの国々の大半では、アラビア語を使い、人口のほとんどがイスラム教徒である。アラブ系の人々が多数であるため共同意識が強く、石油輸出国機構などをとおして結びついている。

広いアジアには、世界の約 ( ⑦ ) 割の人々が住んでいる。中国やインドでは人口が ( ⑧ ) 億を超えている。1 km<sup>2</sup>あたりの人口密度が高くなっている地域も多くある。また、1980 年代から都市が急速に成長し大都市と周りの都市が連なるようになった。



〈 図 〉

問 1. 下線部①に関連して、図中 A～D の河口をもつ河川名をア～エからそれぞれ選び、記号で答えなさい。

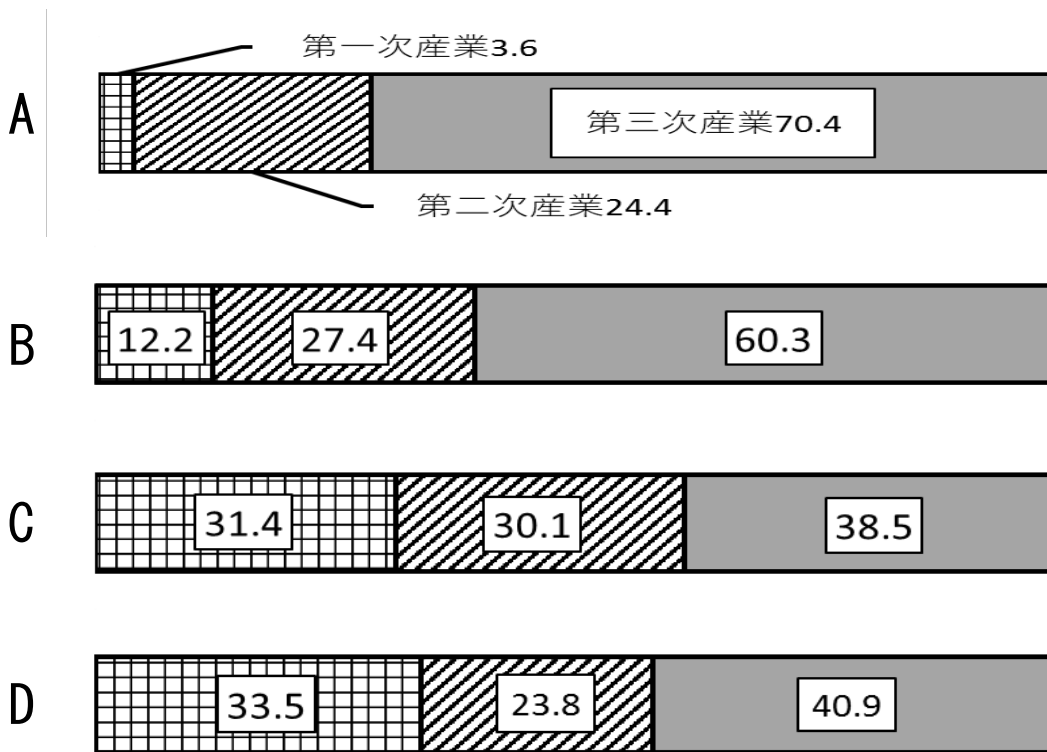
ア. メコン川      イ. 黄河      ウ. 長江      エ. インダス川

問 2. 下線部②に関連して、図中 a・b の地域で冬に卓越する風向をア～エからそれぞれ選び、記号で答えなさい。

ア. 南東      イ. 北東      ウ. 東      エ. 北西

問 3. 下線部③に関連して、現在のアジアの産業別人口について〈 A～D 〉のグラフに該当する国名をア～エからそれぞれ選び、記号で答えなさい。

( 「2016 データブック オブ・ザ・ワールド」より作成 )



〈 グラフ 〉

ア. マレーシア      イ. 日本      ウ. タイ      エ. 中国

問 4. 下線部④に関連して、アジア N I E S に該当する 2 ヶ国、2 地域を答えなさい。

問 5. 下線部⑤に関連して、「A S E A N」を正式名称で答えなさい。

問 6. 下線部⑥に関連して、該当する都市をア～エからひとつ選び、記号で答えなさい。

ア. ニューデリー      イ. バンガロール      ウ. ムンバイ      エ. コルコタ

問 7. 文中 ( ⑦ ) ・ ( ⑧ ) に該当する数字をア～エからそれぞれ選び、記号で答えなさい。

ア. 4      イ. 6      ウ. 10      エ. 15

2

次の〈資料A〉から〈資料D〉は日本で使われたことのあるお金である。これらを参考にして、それぞれの問いに答えなさい。

〈資料A〉



中国の唐にならってつくられた和同開珎

〈資料B〉



江戸時代に使われた寛永通宝

〈資料C〉



江戸時代に使われた天保小判

〈資料D〉



1963年から1986年まで発行された伊藤博文千円札

問1. 〈資料A〉に関連して、唐の都の長安にならって、710年に奈良盆地に新しい都が造られた。都の名前を漢字3字で答えなさい。

問2. 〈資料A〉に関連して、唐にならった律令制度に基づいて日本は多くの国に区分され国司や郡司が政治を治めた。現在の福岡県には、九州地方の政治のほかに外交や防衛に当たる機関が設けられた。この機関の名前を漢字3字で答えなさい。

問3. 〈資料B〉に関連して、江戸幕府は金座・銀座・銭座で貨幣を造らせ全国に流通させた。このため鉱山の開発も進んだ。次のア～エの鉱山の名前の組み合わせで正しいものをひとつ選び、記号で答えなさい。

ア. 佐渡金山一石見銀山一生野銅山      イ. 足尾金山一生野銀山一別子銅山

ウ. 佐渡金山一生野銀山一足尾銅山      エ. 足尾金山一石見銀山一佐渡銅山

問4. 〈資料B〉に関連して、17世紀後半には江戸・大阪・京都の三都が栄えた。大阪は天下の台所と呼ばれ、西日本の諸藩は大阪に年貢米や特産物を販売するための倉庫を備えた邸宅を造った。この建物の名前を漢字3字で答えなさい。

問5. 〈資料C〉に関連して、1830年代、天保のききんが全国をおそい、百姓一揆や打ちこわしもたびたび起こった。ききんで苦しむ人々に米やお金を分けようとして幕府に反乱を起こした元大阪町の役人の名前を漢字5字で答えなさい。

問6. 〈資料C〉に関連して、1841年に幕府の力を回復させるために改革を行った老中の名前を次のア～エからひとつ選び、記号で答えなさい。

ア. 松平定信      イ. 田沼意次      ウ. 新井白石      エ. 水野忠邦

問7. 〈資料D〉に関連して、伊藤博文が中心になって憲法制定の準備が進められた。1889年2月11日に憲法が発布されたが、この憲法の正式名称を漢字7字で答えなさい。

問8. 〈資料D〉に関連して、この千円札が使われていた頃の日本は高度経済成長の時代と言われている。この時代を代表する出来事として行われた東京オリンピックの年号を西暦で答えなさい。


### 3

次の文章を読み、それぞれの問いに答えなさい。

イギリスから独立した①アメリカは太平洋をこえて東アジアとの貿易を望むようになった。1853年、ペリーは4隻の軍艦を率いて浦賀に来航し日本に開国を要求し、1854年、再び来航したペリーの要求にくって日米和親条約を結んだ。

②2港の開港を認め、下田にアメリカの領事を置くなど、幕府の鎖国政策はくずれ開国することになった。アメリカ総領事として下田に来たハリスは幕府に通商条約を結ぶことを強く求めた。新しく大老になった井伊直弼は、1858年に朝廷の許可を得ないまま日米修好通商条約を結んだ。次いで幕府は、オランダ・③ロシア・④イギリス・⑤フランスとも同じ内容の条約を結ぶことになった。ペリー来航以降、日本社会は大きく変化し始め⑥江戸幕府を倒して成立した新政府も欧米諸国をモデルとしてさまざまな⑦改革をすすめた。

問1. 下線部①に関連して、アメリカでは奴隷制をめぐる国を二分する対立になり1861年に南北戦争が起こった。この戦争中に「人民の人民による人民のための政治」の訴えを演説した人物〈写真A〉は誰か、名前を答えなさい。



〈写真A〉

問2. 下線部②に関連して、下田とともに開港した函館は、1869年の五稜郭〈写真B〉における旧幕府軍と新政府軍の最後の戦いの場となった。この戦いを何というか漢字4字で答えなさい。



〈写真B〉

問 3. 下線部③に関連して、早くから日本に関心を示していたロシアは 1792 年ラクスマンが根室に来航したのに続き、1804 年に長崎にも来航した。この時のロシアの使節の名前を答えなさい。

問 4. 下線部④に関連して、19 世紀のイギリスでは製鉄・機械・鉄道などが急速に発達し始め「世界の工場」と呼ばれるようになった。このような工場での機械生産などの技術の向上による経済と社会の仕組みの変化を何というか漢字 4 字で答えなさい。

問 5. 下線部⑤に関連して、17 世紀後半のフランスでは国王が権力の全てを握り国を治めていた。パリの郊外に建設されたベルサイユ宮殿〈写真 C〉は政治や外交だけではなく、美術や音楽でも中心であった。この宮殿を建設した国王の名前を答えなさい。



〈 写真 C 〉

問 6. 下線部⑥に関連して、開国以降の混乱の中で第 15 代将軍となったのは徳川慶喜であった。1867 年、土佐藩のすすめで慶喜は政権を返上し 260 年余り続いた徳川幕府は滅びた。この時の出来事を何というか漢字 4 字で答えなさい。

問 7. 下線部⑦に関連して、明治政府はさまざまな改革を行った。中でも兵制・税制に加えて教育制度を改革した。1872 年に小学校から大学校までの学校制度を定めた法令が公布されたが何というか漢字 2 字で答えなさい。



**4**

次の文章【A】～【D】を読み、それぞれの問いに答えなさい。

**【A】**

794年、桓武天皇が都を平安京に移してから、鎌倉幕府が成立するまでの約400年を平安時代という。8世紀から9世紀にかけて朝廷は支配に従おうとしない東北地方の蝦夷に対してたびたび大軍を送り、特に坂上田村麻呂を（①）に任命して武力で従わせようとした。また、平安時代には遣唐使もたびたび行われており、唐の文化や②仏教の影響を強くうけた文化が栄えた。

問1. 文中の（①）に入る適語を漢字5字で答えなさい。

問2. 下線部②に関連して、最澄と空海について述べた文X・Yについて、その正誤の組み合わせとして正しいものを、下のア～エからひとつ選び、記号で答えなさい。

X 9世紀の初め、遣唐使とともに唐にわたった最澄は、日本に天台宗を伝え、比叡山に延暦寺を建てた。

Y 9世紀の初め、遣唐使とともに唐にわたった空海は、日本に真言宗を伝え、高野山に金剛峯寺を建てた。

ア. X 正 Y 正                      イ. X 正 Y 誤

ウ. X 誤 Y 正                      エ. X 誤 Y 誤

**【B】**

平安時代には藤原氏が、娘を天皇のきさきにし、その子を次の天皇に立てることで勢力を伸ばし、天皇を補佐する職である摂政・関白に就いて政治の実権をにぎるようになった。摂関政治は、11世紀前半の（③）とその子頼通のころが最も安定した。

摂関政治の頃に栄えた文化を国風文化といい、日本人の感情に合った文化を生み出してきた。漢字を変形させて仮名文字が作られ、④優れた文学作品が作られた。

問3. 文中の（③）に入る人名を漢字4字で答えなさい。

問4. 下線部④に関連して、述べた文X・Yについて、その正誤の組み合わせとして正しいものを、次のア～エからひとつ選び、記号で答えなさい。

X 紀貫之などがまとめた「古今和歌集」など優れた文学作品が生まれた。

Y 宮廷には教養や才能のある女性が集まり、紫式部の「枕草子」や清少納言の「源氏物語」など女性による文学作品が多く生まれた。

ア. X 正 Y 正                      イ. X 正 Y 誤

ウ. X 誤 Y 正                      エ. X 誤 Y 誤

【C】

室町時代の日本は、東アジア諸国と大きな関わりをもっていた。14世紀、中国では元が国内の混乱でおとろえると、漢民族が明を建国した。このころから西日本の武士や商人・漁民の中には集団を作って貿易を強要し船を襲い、大陸沿岸を荒らす者があらわれて（a）と呼ばれていた。

3代将軍（⑤）は明の求めに応じてこれらを禁じる一方、正式な貿易船に明から与えられた（b）という証明書を持たせ、朝貢形式をとる日明貿易をはじめた。

問5. 文中の（⑤）に入る人名を漢字4字で答えなさい。

問6. 文中の（a）・（b）に入る語句の組み合わせとして正しいものを、次のア～エからひとつ選び、記号で答えなさい。

ア. a 倭寇              b 朱印状              イ. a 倭寇              b 勘合

ウ. a 元寇              b 朱印状              エ. a 元寇              b 勘合

【D】

琉球（沖縄）では14世紀になると北山・中山・南山の三つの勢力がまとまり、それぞれが明と朝貢貿易を始めた。15世紀初めに、中山の王になった（a）は沖縄を統一し、⑥琉球王国を建てた。

蝦夷地（北海道）ではアイヌ民族が14世紀になると、津軽の十三湊を根拠地にした豪族の安藤氏との交易をおこなうようになった。アイヌは、やがて交易に不満をもつようになり15世紀半ばに首長の（b）を中心に戦いを起こし、和人を苦しめたが敗れた。

問7. 下線部⑥に関連して、琉球王国の王城として築かれた城の名前を下の〈写真〉を参考にして漢字3字で答えなさい。



〈写真〉

問8. 文中の（a）・（b）に入る語句の組み合わせとして正しいものを、次のア～エからひとつ選び、記号で答えなさい。

- |         |        |         |          |
|---------|--------|---------|----------|
| ア. a 李氏 | b アテルイ | イ. a 李氏 | b コシヤマイン |
| ウ. a 尚氏 | b アテルイ | エ. a 尚氏 | b コシヤマイン |

メ

モ

## 5

次の文章を読み、それぞれの問いに答えなさい。

地球温暖化は、大気中の二酸化炭素やメタンガスなどの温室効果ガスの排出量増大が原因と言われている。気温の上昇は、海水を膨張させ、極地の氷河を溶かすことで海面を上昇させる。これらによる高潮の被害や沿岸部の水没などの被害がすでに世界中で報告されている。近年の異常気象は地球温暖化が原因であるとする見方が強くなっている。地球温暖化を抑えるためには二酸化炭素の総排出量を削減しなければならない。

そこで(①)年に、京都で地球温暖化防止会議が開催され、京都議定書が採択された。これは1990年の総排出量に対し2008～2012年までに排出量を削減することを目指したものである。削減の目標値は国によって異なるが、温暖化防止に向けての大きな第一歩を踏み出した。

しかし、②二酸化炭素排出量(2013年時点)が世界一の国は会議に不参加、第二位の国は結局批准しなかった。このことは地球規模の環境問題よりも、自国の経済を優先したと考えられる。

日本は割り当てられた削減の目標値をクリアしたが、地球規模で考えると厳しい状況が依然として続いている。局地的な豪雨・洪水・干ばつ、日本においては、埼玉県・群馬県での記録的猛暑、また青森県では昨年冬の大鰐インターハイが雪不足のため開催が危ぶまれたりと、異常気象による事例は数多く報告されている。私たちは着々と温暖化が進行していることを意識し、地球全体の問題として取り組まなければならない。

地球温暖化以外にも様々な環境問題が山積している。森林破壊は熱帯林が生い茂る発展途上国を中心に進行している。原因は人口増加による過度の焼き畑農業、家畜の過放牧、木材輸出や薪炭利用のための過伐採である。これらの結果、(③)という土地が不毛化していく現象がすすんでいる。毎年、日本の半分に相当する面積の熱帯林が減少しており大きな問題になっている

成層圏に広がるオゾン層は人体に有害な紫外線を吸収する役割を果たしている。そのオゾン層が破壊されると、皮膚がんや白内障など健康に被害をあたえるといわれている。1980年代になってオゾン層を破壊する原因はフロンであることが判明した。フロンは冷蔵庫やエアコンの冷媒、スプレーなどの噴霧材として大量に利用されてきた。1987年の④モントリオール議定書採択により、この問題の解決がはかられている。

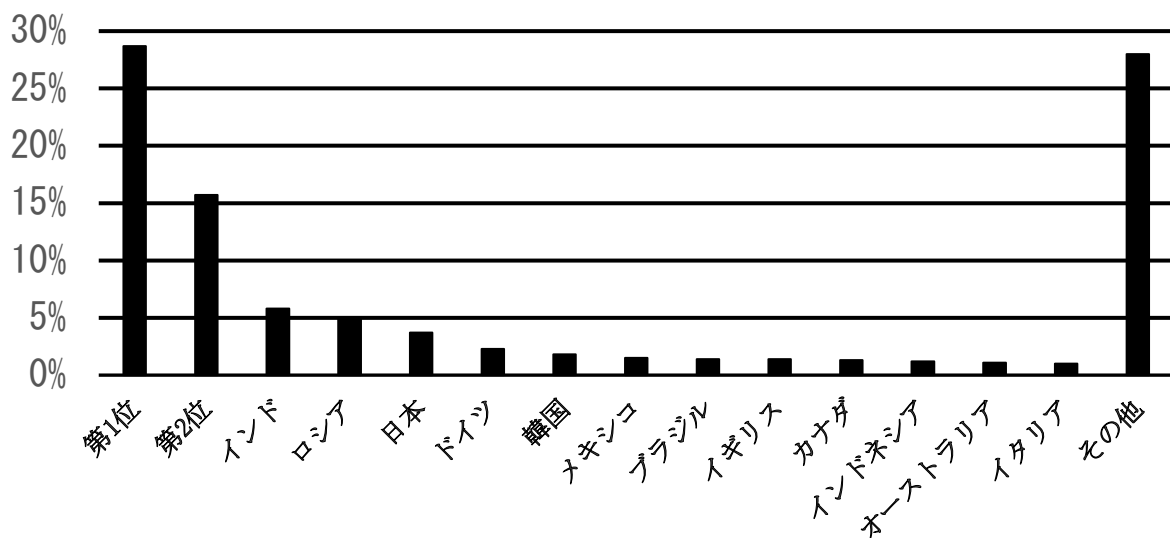
問1. 文中の（①）に適切な語句を記入しなさい。

問2. 下線部②に関連して、第1位と第2位に該当する組み合わせの正しいものを下記の〈棒グラフ〉を参考に以下のア～エからひとつ選び、記号で答えなさい。

（「EDMC エネルギー・経済統計要覧 2016」より作成）

- ア. 第1位アメリカ・第2位フランス
- イ. 第1位中国・第2位アメリカ
- ウ. 第1位アメリカ・第2位中国
- エ. 第1位フランス・第2位ロシア

2013年 世界の二酸化炭素排出量



〈棒グラフ〉

問3. 文中の（③）に適切な語句を記入しなさい。

問4. 下線部④に関連して、決定された事項について正しいものを次のア～エからひとつ選び、記号で答えなさい。

- ア. フロンガスの即時全廃
- イ. オゾン層の修復目標
- ウ. フロンガスの排出規制
- エ. オゾンホール拡大目標

## 6

次の文章を読み、それぞれの問いに答えなさい。

日本の近代的立憲主義は、1889年の憲法制定にはじまる。そこでは国民は天皇の「( ① )」とされた。その義務は兵役、納税とされ自由権的な権利は認められていた。しかしこれは人間が生まれながらに持つ権利を保障したのではなく、天皇から与えられた権利であり、法律によって制限できるものであった。この時期、実際に②国や政府を批判する政治活動がしばしば抑圧された。

強大な国家権力の下で日本は近代産業の育成と軍事力の増強に努め、アジア・太平洋地域の権益や植民地の獲得を目指し日中戦争へと侵略戦争をすすめた。さらに日本は戦争継続のための資源獲得を目的としてアジア太平洋戦争を引き起こした。1945年8月、アメリカは広島・長崎に原爆を投下し、中立条約を結んでいたソビエトが対日参戦した。壊滅状態の日本は、( ③ ) 宣言を受け入れて降伏し、第二次世界大戦は終結した。そこには、軍国主義の除去、民主主義的傾向の復活、基本的人権の尊重、新しい政府の樹立などが含まれていたため、憲法の改正が必要となった。

日本は1945年10月、④連合国軍最高司令官総司令部 (GHQ)の示唆により憲法問題調査委員会を設け改正案を作成した。しかしその内容は、当時の憲法と大差なかったことからGHQは拒否し、自ら草案を作成した。こうして出されたGHQ案をもとに日本政府は憲法改正草案を作成した。改正案は第90帝国議会で審議され一部修正のうえ可決。1946年11月3日に日本国憲法として公布し、1947年5月3日に施行した。この憲法は、国民主権・平和主義・基本的人権の尊重を基本原理とし、国民の代表者によってつくられた民定憲法である。

日本国憲法では天皇は主権者ではなく、日本国と日本国民統合の「象徴」となり、⑤国政についての権能を持たないとされた。

- 問1. 文中の( ① )に「天皇と皇族以外の国民」を指す語句を**漢字2字**で記入しなさい。
- 問2. 下線部②に関連して、このためにつくられた1925年制定の法律名を**漢字で正しく**答えなさい。
- 問3. アメリカ大統領、イギリス首相、中華民国主席の名において日本に対して発された「全日本軍の無条件降伏」等を求めた宣言名を( ③ )に**カタカナ**で記入しなさい。
- 問4. 下線部④に関連して、最高司令官名を**カタカナ**で答えなさい。
- 問5. 下線部⑤に関連して、天皇としての仕事を総称して何というか答えなさい。

## 7

次の文章を読み、それぞれの問いに答えなさい。

1951年、日本は連合国側との講和条約（サンフランシスコ講和条約）を結んで独立を回復した。同日、自国の防衛のためにアメリカと日米安全保障条約を結んでいる。この条約は、( ① ) 年に改訂されたが、それは日本にとって重大な変更となった。他国が日本の領土を攻撃してきたときに、共同して対処すると定められたのである。そのため日本は、アメリカ軍が日本の領域内に駐留することを認め、各地に米軍基地が設置された。

特に( ② ) 県には、在日アメリカ軍専用施設の39%が集中しているが、騒音や米兵の犯罪行為、日米地位協定などに対する不満が高まり基地不要論も県民感情として大きなうねりとなっている。

在日米軍と自衛隊に関しては憲法9条に反するとして幾度も合憲か否かが司法で審査されたが、最高裁判所は「高度に政治的な問題で司法審査の対象外」であるとして司法判断を避けた。

日米安全保障条約に対しては1957年の砂川事件、自衛隊に対しては1958年百里基地訴訟、1962年の恵庭事件、1969年の長沼ナイキ基地訴訟などに代表される訴えがあった。平和憲法として名高い日本国憲法であるが、その時々政権担当者の憲法解釈によって内容が大きく変わってしまっていることを危惧する意見も多い。


日本では( ③ ) 的自衛権は認められているが、( ④ ) 的自衛権は行使できないとの立場をとっていた。しかし2014年、限定的な行使は可能という見解に変更された。このことに対して国内外でも反発は大きい。また⑤PKO協力法など国際貢献の名のもとに発足当初は禁じられていた自衛隊の海外派遣が幾度も行われている。他にも復興支援、後方支援として派遣があった。

問1. 文中の( ① ) に入る年号を記入しなさい。

問2. 文中の( ② ) に入る語句を記入しなさい。

問3. 文中の( ③ ) に入る語句を漢字2字で答えなさい。

問4. 文中の( ④ ) に入る語句を漢字2字で答えなさい。



〈 国 旗 〉

問5. 下線部⑤に関連して、PKO協力法による自衛隊の海外派遣は、モザンビーク・ゴラン高原・東ティモールなど合計8度にわたる。上の〈国旗〉は1992年に最初に派遣された国のものである。国名を答えなさい。



2017年度 東奥義塾高等学校 入学試験 社会科 解答用紙

1

問1				問2			
A		B		C		D	
問3							
A		B		C		D	
問4							
国 名				地 域			
問5			問6		問7		
					⑦		⑧

※1

2

問1	問2	問3	問4	問5
問6	問7	問8		

※2

3

問1	問2	問3	問4	問5
問6	問7			

※3

4

問1	問2	問3	問4	問5	問6
問7	問8				

※4

5

問1	問2	問3	問4

※5

6

問1	問2	問3	問4	問5

※6

7

問1	問2	問3	問4	問5

※7

受験番号

※合計