

2025年度 入学試験問題

社 会

(1科目 100点 45分)

2025年2月6日(木) 4時限目実施

1. 試験開始の合図があるまで、この問題冊子の中を見てはいけません。
2. この注意事項は、よく読んでください。
3. 試験中に問題冊子の印刷不鮮明、ページの落丁・乱丁及び解答用紙の汚れ等に気付いた場合は、手を挙げて監督者に知らせてください。
4. 次のことには十分注意してください。
 - ① 解答用紙には、受験番号を記入することを忘れないこと。
 - ② 答えはすべて解答用紙に記入すること。
 - ③ 不正行為はしないこと。

解答については、間違いのないように十分注意し、記入してください。

東 奥 義 塾 高 等 学 校

1

次の文章を読み、それぞれの問いに答えなさい。

東南アジアの農業では（ ① ）風の影響で降水量が多いため、大河の流域を中心に稲作が盛んである。また、年に2回収穫する（ ② ）作ができる地域もある。タイは古くからチャオプラヤ川流域で稲作が盛んである。また、タイやインドネシアなどの③マングローブが広がる海岸部では（ ④ ）の養殖場が造られている。

一方、⑤インドネシアのバリ島、フィリピンのルソン島では、地形の制約を克服して階段状に水田を作り、稲作が行われている。以前は、インドネシアやフィリピンでは土地生産性が低かったが、1960年代以降は新しい品種や化学肥料、灌漑設備が導入されて生産量が増大した。

⑥ヨーロッパ諸国の植民地にされていた東南アジアでは、国々の政策によってヨーロッパ向け商品作物の栽培を行う⑦大規模なプランテーション農業が進められた。

⑧南アジアの畑作地域は、インドではガンジス川上流やデカン高原、パキスタンではインダス川中流域のパンジャブ地方で盛んである。

問1 文中の空欄（ ① ）にあてはまる語句を答えなさい。また、夏季の風は、南西風と北東風のどちらから吹いてくるか。風向を答えなさい。

問2 文中の空欄（ ② ）にあてはまる語句を答えなさい。

問3 文中の下線部③について述べた文章として適当でないものを、次のア～エからひとつ選びなさい。

- ア. マングローブは、海水と淡水の混じりあう遠浅の海岸に広がっている。
- イ. マングローブは、薪炭材を供給し、魚の絶好の生息地となっている。
- ウ. マングローブは、遠浅の海岸地域に耐乾性の樹木と草原から形成されている。
- エ. マングローブは、養殖池に変えられて減少している。

問4 文中の空欄（ ④ ）に適する語句を、下のア～エからひとつ選び答えなさい。


- ア. タイ
- イ. マグロ
- ウ. エビ
- エ. サケ

問5 文中の下線部⑤に関連して、火山や地震の有無を、「ある」・「ない」で答えなさい。

問6 文中の下線部⑥に関連して、当時ヨーロッパ諸国から栽培を強制されていたものを、次のア～エからひとつ選び、記号で答えなさい。

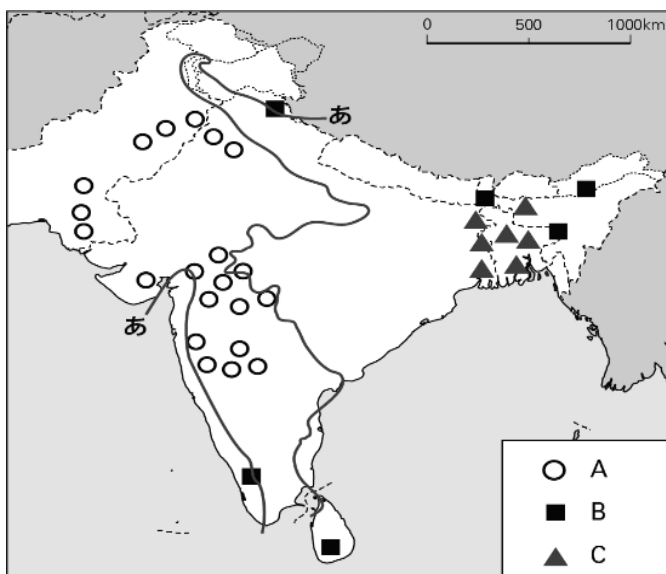
- ア. 天然ゴム
- イ. 米
- ウ. 小麦
- エ. トウモロコシ

問7 文中の下線部⑦に関連して、次の写真Ⅰ～Ⅲの作物は、バナナ、油やし、コーヒーのいずれかである。このうち、油やしにあてはまる写真をⅠ～Ⅲからひとつ選び、記号で答えなさい。



問8 文中の下線部⑧に関連して、図1中のA・B・Cの作物について図右の語群からそれぞれ選び、記号で答えなさい。また、デカン高原やパキスタンでは畑作が盛んな理由を、気候の特色を踏まえて簡単に説明しなさい。

図1



- ア. 茶
- イ. 綿花
- ウ. ジュート
- エ. 稲

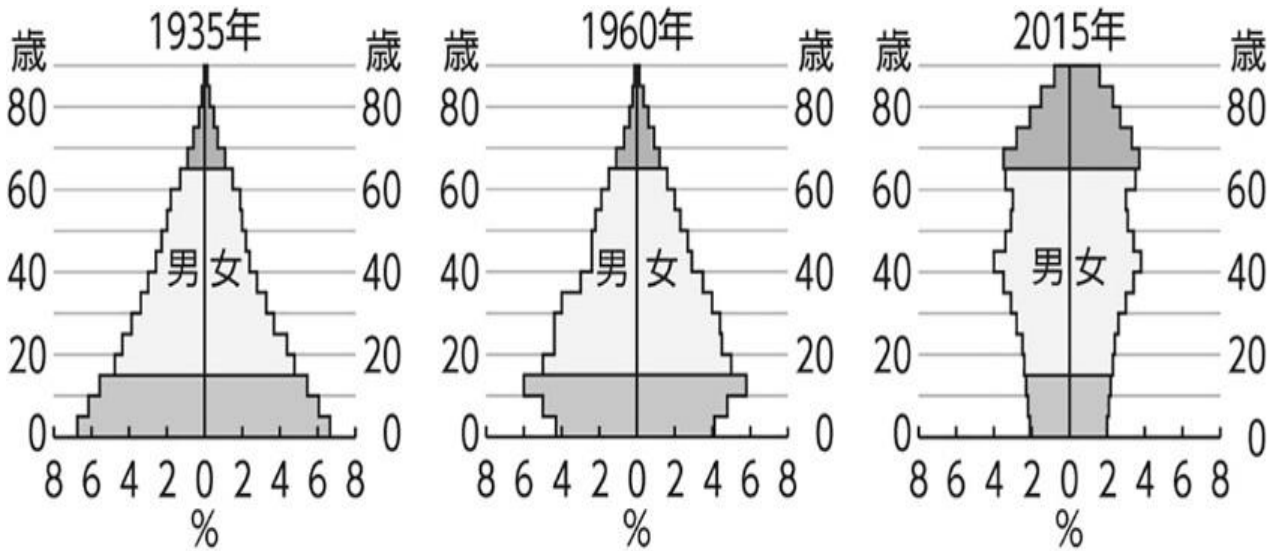
※あ＝年降水量 1,000mm

2

次の日本の人口に関連する問いに答えなさい。

- 問1 下の資料1のような、年齢別の人口の割合を表したグラフを何というか答えなさい。
- 問2 資料1の「1935年」「1960年」「2015年」の中から、「つぼ型」と呼ばれるものをひとつ選び、年で答えなさい。
- 問3 出生率と死亡率がともに高い国の人口構成は、資料1の「1935年」「1960年」「2015年」のどれと近い形になるか、適当なものをひとつ選び、年で答えなさい。

資料1 日本の人口構成の変化



3

次の各史料に関するそれぞれの問いに答えなさい。ただし、文字史料は読みやすいように書き直したり、省略した部分がある。

問1 次の史料1は、中国の歴史書の一部である。この歴史書の名称を漢字5字で答えなさい。また倭のなかのどの国に関する記述であるか、国名を答えなさい。

史料1

倭にはもともと男の王がいたが、その後国内が乱れたので一人の女子を王とした。名を卑弥呼といい、成人しているが夫はおらず、一人の弟が国政を補佐している。

問2 次の史料2は、ある人物がみずからの栄華をほこってよんだ歌である。その人物名を答えなさい。また、その人物の娘である中宮に仕えた、紫式部が著した物語の名前を答えなさい。

史料2

この世をば わが世とぞ思ふ 望月の 欠けたることも なしと思へば

問3 次の史料3は、鎌倉時代の執権が政治の判断の基準として定めたものの一部である。史料の名称を答えなさい。

史料3

- 一 諸国の守護の職務は、頼朝公の時代に定められたように、京都の御所の警備と、謀反や殺人などの犯罪人の取りしまりに限る。
- 一 武士が20年の間、実際に土地を支配しているならば、その権利を認める。

問4 史料3について、以下の説明文ア～エから誤っているものをひとつ選び、記号で答えなさい。

- ア. この法令を制定した執権は、北条泰時である。
- イ. この法令により、朝廷に仕える人々も行動を制限された。
- ウ. この法令が出されるまで、武士を統率する本格的な法令はなかった。
- エ. この法令は、武士の社会で行われた慣習をまとめたものである。

問5 次の史料4は、江戸幕府が法律として定めたものの一部である。史料の名称を答えなさい。

史料 4

- 一 学問と武芸にひたすら精を出すようにしなさい。
- 一 諸国の城は、修理する場合であっても必ず幕府に申し出ること。新しい城を造ることは厳しく禁止する。
- 一 ①幕府の許可なく、結婚をしてはならない。

問6 史料4について、以下の説明文ア～エから誤っているものをひとつ選び、記号で答えなさい。

- ア. 農民たちの結婚は、幕府の許可なくおこなうことができた。
- イ. 幕府は親藩や譜代大名、外様大名を統制した。
- ウ. 大名は原則として、1年おきに領地と江戸とを往復することが義務づけられた。
- エ. 大名は新しく城を築くことを認められるかわりに、幕府が命ずる土木作業に従事した。

問7 史料4中の下線部①について、江戸幕府においておこったできごとア～エを古い順に並びかえ、記号で答えなさい。

- ア. 天明のききんが全国に広がった。
- イ. オランダとイギリスに貿易を許可し、両国の商館が平戸におかれた。
- ウ. 松平定信による寛政の改革が行われた。
- エ. 島原・天草一揆がおこった。

問8 次の史料5は、日本が開国するきっかけとなった条約の一部である。この条約名を答えなさい。

史料5

第2条 (A)、函館の両港は、アメリカ船のまきと水、食料、石炭、欠乏の品を、日本で調達することに限って、入港を許可する。

第9条 日本政府が、アメリカ人以外の外国人に対して、現在アメリカ人に許可していないことを許す場合には、アメリカ人にも同様に許可しなければならない。このことについて交渉したり、時間をかけたりしないこと。

問9 史料5中の空欄 (A) について、現在の静岡県内にある地名を答えなさい。

問10 史料5について、この条約のあとに結ばれた日米修好通商条約について述べた次の文X・Yについて、正誤の組み合わせとして正しいものをア～エからひとつ選び、記号で答えなさい。

X. この条約を結んだ井伊直弼は、吉田松陰率いる水戸藩士たちによって暗殺された。

Y. この条約は1858年、朝廷の許可を得て結ばれた。

ア. X－正 Y－正

イ. X－正 Y－誤

ウ. X－誤 Y－正

エ. X－誤 Y－誤

問11 次の史料6は、ある歌人が出征する弟を思って、1904年に文芸誌「明星」に発表したものである。この歌人の名前と、歌人の弟が出征した戦争の名称を答えなさい。

史料6

あゝをとうとよ君を泣く / 君死にたまふことなかれ / 末に生まれし君なれば /
親のなさはまさりしも / 親は刃をにぎらせて / 人を殺せとをしへしや /
人を殺して死ねよとて / 二十四までをそだてしや

4

次にあげた芸術作品 1～4 に関するそれぞれの問いに答えなさい。

作品 1



問1 作品1について、これは今から約2万年前に新人によってえがかれたと考えられる、フランスで発見された洞窟壁画である。発見されたフランスの地名を答えなさい。

問2 作品1について、以下の説明文ア～エから誤っているものをひとつ選び、記号で答えなさい。

- ア. 旧石器時代にえがかれた壁画である。
- イ. 同じ時期にえがかれた洞窟壁画は、ほかに存在しない。
- ウ. 当時の人々が狩猟・採集の生活をおくっていた様子がえがかれている。
- エ. この壁画をえがいた新人は、ホモ・サピエンスとも表現される。


問3 作品2について、これはフランス革命の不安定な政治を終わらせ、1804年に皇帝の位に就いた人物の肖像画である。この人物の名前を答えなさい。

問4 作品2について、この肖像画の人物が皇帝に就任する以前、フランス革命の過程で処刑された国王は誰か。名前を答えなさい。

作品 2



作品 3



問5 作品3について、これは中国（清）とイギリスの海戦の様子をえがいたものであり、1840年に始まったアヘン戦争の一部をえがいたものである。アヘン戦争の原因となった、中国（清）とイギリスとインドの間の貿易を何というか。貿易の名称を答えなさい。

問6 作品3について、この戦争の結果、結ばれた条約は何か。条約の名称を答えなさい。


問7 作品3について、アヘン戦争後に結ばれた条約の内容として、以下の説明文ア～エから正しいものをひとつ選び、記号で答えなさい。

- ア. イギリスは上海などの5港を開港させ、中国（清）に賠償金を課した。
- イ. イギリスは中国（清）に関税自主権を認める、不平等条約を結んだ。
- ウ. 中国（清）はイギリスに領事裁判権を認めない、不平等条約を結んだ。
- エ. イギリスは台湾を手に入れた。

問8 作品3について、アヘン戦争後の社会不安のために中国（清）各地に広まった乱の名称として正しいものを、下のア～エからひとつ選び、記号で答えなさい。

- ア. インド大反乱
- イ. 壬申の乱
- ウ. 五・一五事件
- エ. 太平天国の乱

作品 4



問9 作品4について、これは日本とロシアの戦争をめぐる列強の関係をえがいた風刺画である。作品中の **I** ~ **IV** の各人物は、日本・アメリカ・イギリス・ロシアのいずれかをさしているが、このうちイギリスにあてはまる人物を **I** ~ **IV** からひとつ選び、記号で答えなさい。

問10 作品4について、日本とロシアの戦争後にアメリカの仲介によって両国間で結ばれた講和条約の名称として正しいものを、下のア~エからひとつ選び、記号で答えなさい。

- ア. ベルサイユ条約
- イ. ポーツマス条約
- ウ. 日ソ中立条約
- エ. サンフランシスコ平和条約

5

次の4枚のカードは、生徒が日本の民主政治のしくみについて調べ学習をした際の一部である。各カードの内容を読んで、それぞれの問いに答えなさい。

カードA

日本では、①一定の年齢以上の全ての国民が選挙権を持つ普通選挙の他、平等選挙、直接選挙、秘密選挙の4原則の下で選挙が行われている。

日本の選挙制度には、小選挙区制、大選挙区制、②比例代表制などがある。選挙の種類によって死票が多くなる場合もある。

カードB

③国会は二院制（両院制）を採用し、衆議院と参議院の二つの議院で構成されている。

④衆議院と参議院の議決が一致すると国会の議決になる。定数や任期、選挙制度が異なる議院を置くことで、国民の意見がより広く国会に届けられ、また、慎重な審議をすることができる。

カードC

日本は議院内閣制を採用している。内閣は、国会を選んだ首相を中心に組織され、⑤国会に対して連帯して責任を負うことになっている。衆議院の総選挙が行われたときは、内閣は必ず総辞職し、選挙の結果をふまえ⑥内閣総理大臣が指名されたのち、新しい内閣が作られる。

カードD

日本の裁判所は、⑦国会が制定した法律や、内閣が作る命令、規則、処分が憲法に違反していないかを、具体的な事件の裁判を通して審査している。この権限はすべての裁判所にあるが、特に最高裁判所は、最終決定権を持つことから⑧「憲法の番人」とよばれている。

問1 カードA中の下線部①について、次の表は日本の選挙権の歴史をまとめたものである。表中の（ ① ）～（ ④ ）に入る組み合わせとして正しいものを、下のア～エからひとつ選び、記号で答えなさい。

改正年 ()内は改正後最初の選挙実施回	選挙人資格	
	年齢・性別	納税額
1889年（第1回）	（ ① ）	（ ② ）
1900年（第7回）		直接国税 10円以上
1919年（第14回）		直接国税 3円以上
1925年（第16回）	（ ③ ）	（ ④ ）
1945年（第22回）		
2015年（第48回）	満18歳以上の男女	

- ア. ①満25歳以上の男女 ②直接国税15円以上 ③満20歳以上の男性 ④資格の条件なし
 イ. ①満25歳以上の男女 ②直接国税30円以上 ③満20歳以上の男性 ④資格の条件なし
 ウ. ①満25歳以上の男性 ②直接国税15円以上 ③満20歳以上の男女 ④資格の条件なし
 エ. ①満25歳以上の男性 ②直接国税30円以上 ③満20歳以上の男女 ④資格の条件なし

問2 カードA中の下線部②について、比例代表の選挙ではドント式を採用し各政党の議席数が決まるが、次の表を見て、この選挙区の定数が8名であった場合、各政党の議席数はそれぞれ何名になるか答えなさい。

政党名	赤 党	青 党	黄 党	緑 党	黒 党
得票数	20,000	54,000	60,000	35,000	86,000

問3 カードB中の下線部③について、次の表は国会の種類をまとめたものである。表中の（ ① ）～（ ⑤ ）に入る適語を答えなさい。

種 類	召 集	会 期
（ ① ）	毎年1回、1月中に召集される。	（ ② ）日間
臨時会	内閣が必要と認めた時、またはいずれかの議院の総議員の（ ③ ）以上の要求があった場合に召集される。	両院の議決の一致による
（ ④ ）	衆議院解散後の総選挙の日から30日以内に召集される。	両院の議決の一致による
参議院の（ ⑤ ）	衆議院の解散中、緊急の必要があるとき、内閣の求めによって開かれる。	不定

問4 カードB中の下線部④について、国会の議決ではいくつかの議決について、両議院の議決が異なる場合、衆議院が参議院より優先される衆議院の優越が認められているが、その例として誤っているものを、下のア～エからひとつ選び、記号で答えなさい。

- ア. 法律案の議決については、衆議院が可決した議案を、参議院が否決または60日以内に議決しなかったときは、衆議院の出席議員の3分の2以上の賛成で可決できる。
- イ. 予算案の議決については、衆議院が可決した議案を、参議院が30日以内に議決しなかったときは、衆議院の議決が国会の議決となる。
- ウ. 条約の承認については、衆議院が可決した議案を、参議院が否決したときは、両院協議会を開催し、それでも意見が一致しないときは、衆議院の議決が国会の議決となる。
- エ. 内閣総理大臣の指名については、衆議院のみで議決する。

問5 カードC中の下線部⑤について、現状の内閣が信用できず行政を任せられないと考えるときには、衆議院は内閣不信任の決議を行うことができるが、衆議院で内閣不信任の決議が可決されたときは、内閣は総辞職の他に、どのような行動をとらなければならないかを答えなさい。

問6 カードC中の下線部⑥について、内閣総理大臣に関する説明として適当なものを、下のア～エからひとつ選び、記号で答えなさい。

- ア. 内閣総理大臣は、国务大臣を任命することはできるが、辞めさせることはできない。
- イ. 内閣総理大臣は、国会から指名され、内閣から任命される。
- ウ. 内閣総理大臣以外の国务大臣は、文民でなければならない。
- エ. 内閣総理大臣は、国务大臣をあつめて閣議を開くことができる。

問7 カードD中の下線部⑦について、この裁判所がもつ権限を答えなさい。

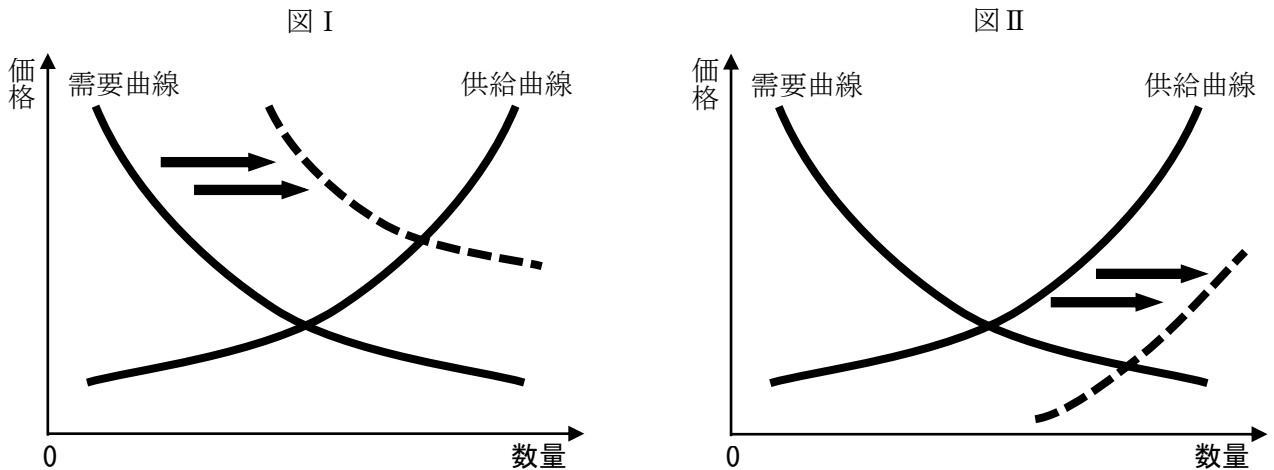
問8 カードD中の下線部⑧について、最高裁判所がこれまで上記問7の権限によって、憲法判断した判例の内容として誤っているものを、下のア～エからひとつ選び、記号で答えなさい。

- ア. 薬局を開く許可の条件として、他の薬局から一定以上離れていなければならないとする、薬事法第6条は、職業選択の自由（憲法第22条）に違反しており、無効である。
- イ. 女性だけ離婚や死別後6か月間は再婚を禁止する、民法第733条は、法の下での平等（憲法第14条）や結婚における男女の平等（憲法第24条）に違反している。
- ウ. 外国に住んでいる日本人の選挙権を認めない公職選挙法の規定は、選挙権の保障（憲法第15条）に違反しており、国は原告に賠償しなければならない。
- エ. 法律上の結婚関係にない男女の子どもの法定相続分を、結婚関係にある男女の子どもの2分の1とする、民法第900条4は、法の下での平等（憲法第14条）に照らし合わせても、憲法に違反しているとまではいえない。

6

私たちの暮らしと経済について、それぞれの問いに答えなさい。

問1 商品の価格は、消費者の買う量（需要量）と生産者の売る量（供給量）との関係で決まる。下の図Ⅰ・図Ⅱは需要量と供給量の変化と価格を表したものであるが、このうち、技術の進歩によって今までと同じ費用でより多くの生産ができるようになったことを表したものは、図Ⅰ・図Ⅱのどちらか答えなさい。



問2 次の表は、日本銀行の金融政策と政府の財政政策をまとめたものである。表中の（①）～（④）に入る文章として適当なものを、下のア～エからそれぞれ選び、記号で答えなさい。

	不景気（不況）のとき	好景気（好況）のとき
日本銀行の金融政策 （公開市場操作）	（ ① ）	（ ② ）
政府の財政政策	（ ③ ）	（ ④ ）

- ア. 公共投資を増やして企業の仕事を増やしたり、減税をして企業や家計の消費を増やす。
- イ. 公共投資を減らして企業の仕事を減らしたり、増税をして企業や家計の消費を減らす。
- ウ. 国債などを銀行へ売り、銀行から企業への資金の貸し出しを減らそうとする。
- エ. 国債などを銀行から買い、銀行から企業への資金の貸し出しを増やそうとする。

問3 円高・円安は私たちの生活や日本の経済全体に大きな影響を与えている。円高・円安が与える影響についての説明として適当なものを、下のア～エからふたつ選び、記号で答えなさい。

- ア. 円高のときは、日本人が海外旅行をする場合に有利になる。
- イ. 円高のときは、日本人が海外旅行をする場合に不利になる。
- ウ. 円安のときは、日本の企業が輸出する場合に有利になる。
- エ. 円安のときは、日本の企業が輸出する場合に不利になる。

2025年度 東奥義塾高等学校 入学試験 社会科 解答用紙

1

問1		問2	問3	問4	問5
語句	風向				
問6	問7	問8			
		A	B	C	
問8 理由					※1

2

問1	問2	問3

※2

3

問1					
歴史書				国名	
問2		問3	問4	問5	
人物名	物語				
問6	問7		問8	問9	問10
	→	→	→		
問11					
歌人		戦争			

※3

4

問1	問2	問3	問4	問5
問6	問7	問8	問9	問10

※4

5

問1	問2								
赤党	議席	青党	議席	黄党	議席	緑党	議席	黒党	議席
問3									
①	②	③	④	⑤					
問4	問5	問6	問7	問8					

※5

6

問1	問2				問3
	①	②	③	④	

※6

受験番号

※合計